

# 十年命题路

安徽省淮南市第五中学

孙 峰

手机:15855464744

QQ: 805781542



十年 ➡ 2009年——2018年

2009年高考，安徽省高考的所有科目都实现本省命题。



一、出好题

二、命好卷

三、做好事

四、做好人



# 一、出好题

## “好”题梦想——张亚南

国家教育部考试中心研究员

### （一）、“好”题的一般标准

- 1、符合考试目的
- 2、实现考核目标
- 3、科学、公平、合理的难度
- 4、良好的区分度

### （三）、“好”题的形象

- 1、平和、大气、高尚的气质
- 2、简洁、流畅、准确、优美的文字表达
- 3、清晰、标准，有视觉美感的图像
- 4、考究的细节

### （二）、好题目的设计标准

- 1、高深的立意
- 2、新颖、真实、内涵丰富的情境
- 3、准确到位、严谨的设问：  
指向明确，与试题提供的条件吻合，不产生歧义
- 4、合理的赋分  
题目的设计得分与题目本身的设计价值相等，其重点包括对完成试题思维劳动量及书写劳动量的合理估价
- 5、完整、无歧义、有适度空间的考察答案



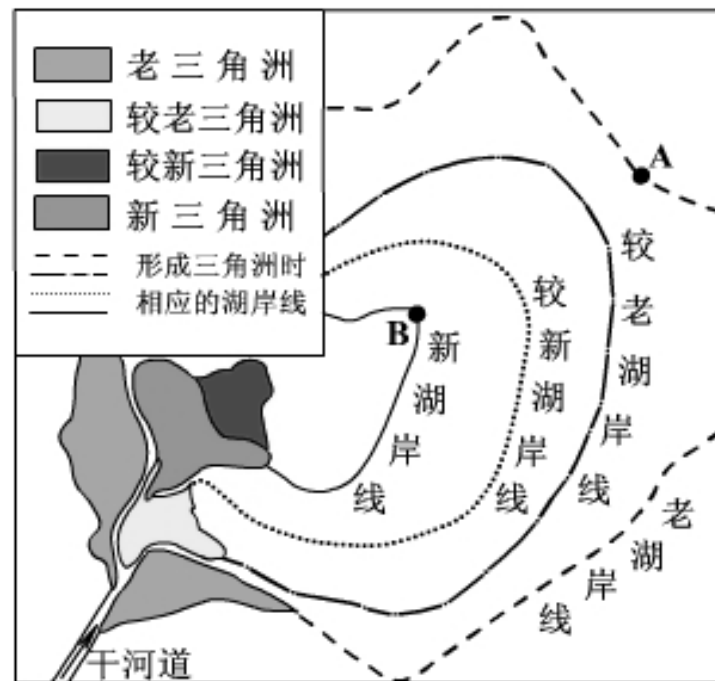
## (四)、“好”题的“标识”

- 1、经受得时间的考验
- 2、值得回味，品味和鉴赏

**(2009年安徽高考) 33. (30分)**

根据材料和图9，结合所学知识，回答下列问题。

新疆罗布泊水面在古代曾经超过3000平方千米，100多年前尚存500多平方千米，1972年完全干涸。塔里木河曾经是罗布泊的主要水源。20世纪后半期，塔里木河流域修建水库200多座，耕地面积扩大约1倍。



- (1) 指出自A地至B地地势的变化，并说明理由。(8分)
- (2) 运用地理环境整体性原理，说明三角洲位置变化的主要过程。(10分)
- (3) 简述罗布泊的干涸对干旱区流域开发的启示。(12分)

## 二、命好卷

### ➡ 好卷的标准

- (一) 科学性
- (二) 有效性
- (三) 公平性
- (四) 规范性





# 今年的考试风波

## 高考

### 理综合全国一卷、 文综合全国二卷

## 中考

### 安徽化学

## 高考理综第8题出错？

2018-06-12 17:07:00 来源：人民网

高考已经结束，考试题目和答案也已公之于众。日前，一位高中化学老师在网上发帖称全国 I 卷理综单选题的第8题出题有问题，该题的标准答案是A，而该老师认为，选B也是正确的，这个帖子迅速引发热议。而在今年的高考中，江西正是使用的全国 I 卷。11日23时50分，江西省教育

省教育考试院在公告中省使用的2018年全国高考理综的B选项有不同理解，同时

除了江西外，广东、福建、国 I 卷省份的教育考试院也

人民日报

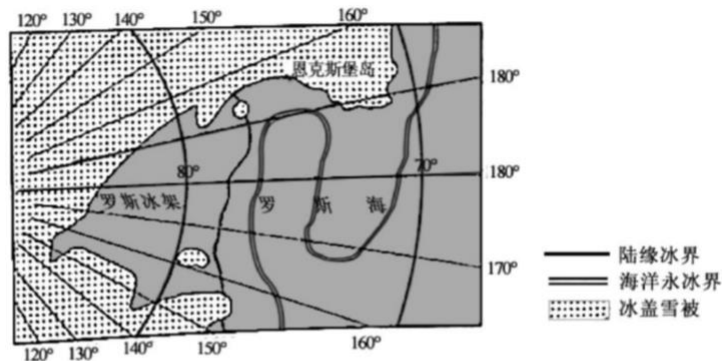
6月12日 10:05 来自 新媒体聚合平台

【多省发布消息：高考全国卷理综第8题选A或B均给6分】今年高考全国卷理综公布答案后，单选第8题的标准答案是A，引发老师学生质疑。现多省发出公告：全国卷理综第8题本身没有问题，但不同考生从不同学科角度，对试题选项会有不同的理解。经研究决定，对该题单选A或单选B的，均给6分。（中国日报）



A. 狹窄 B. 曲折 C. 吸入 D. 鈴田山口

恩克斯堡岛(图3)是考察南极冰盖雪被、陆缘冰及海冰的理想之地。2017年2月7日，五星红旗在恩克斯堡岛上徐徐升起，我国第五个南极科学考察站选址奠基仪式举行，据此完成6~8题。

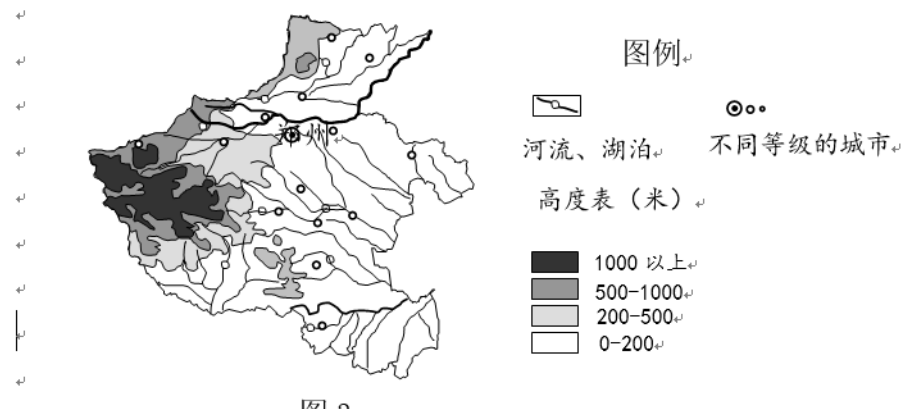
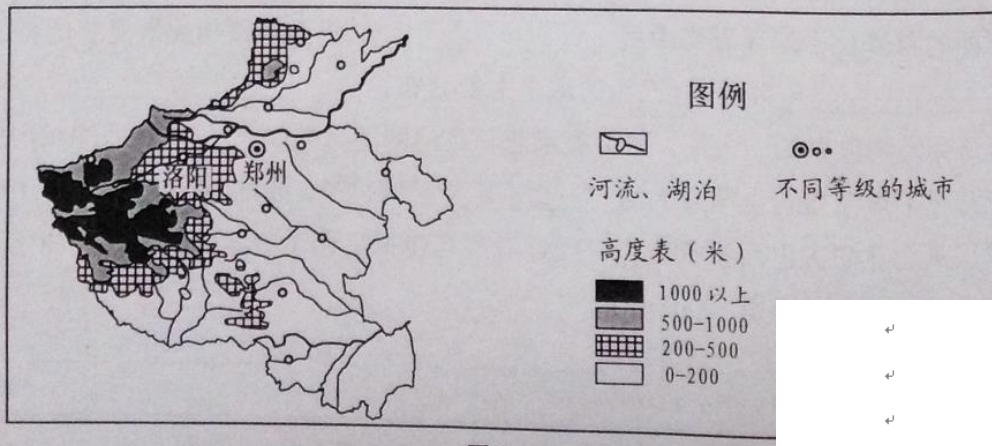


- 2月7日，当恩克斯堡岛正午时，北京时间约为
  - 2月7日9时
  - 2月7日15时
  - 2月7日17时
  - 2月8日7时
- 五星红旗在恩克斯堡岛上迎风飘扬。推测红旗常年飘扬的主要方向是
  - 东北方向
  - 西南方向
  - 东南方向
  - 西北方向
- 对于极地科学考察而言，恩克斯堡岛所在区域的优势在于
  - 生物类型多样
  - 对全球变暖敏感
  - 大气质量优良
  - 人类活动影响少

【多省发布消息：高考全国卷理综第8题选A或B均给6分】今年高考全国卷理综公布答案后，单选第8题的标准答案是A，引发老师学生质疑。现多省发出公告：全国卷理综第8题本身没有问题，但不同考生从不同学科角度，对试题选项会有不同的理解。经研究决定，对该题单选A或单选B的，均给6分。（中国日报）



读图 2“我国某省级行政区域地形图”，完成 3-4 题。



3.该省级行政区域简称为

A.粤      B.蜀      C.鄂      D.豫

4.该省省会所在地的海拔高度约为

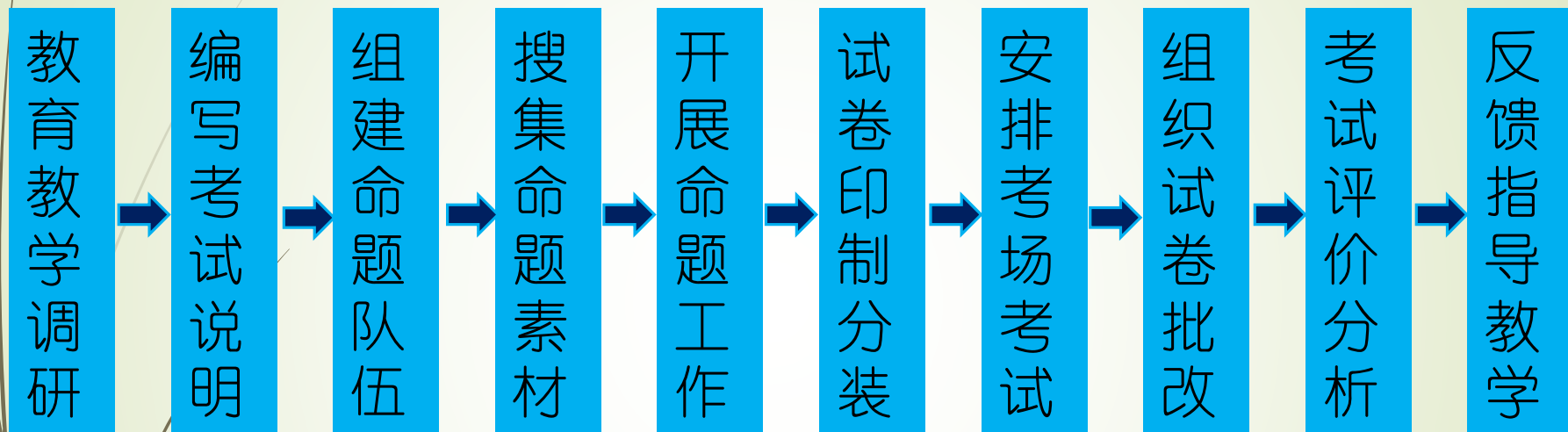
A.0—200      B.200—500  
C.500—1000      D.1000米以上

- ➡ 中考、学考、高考等**大规模高利害考试**，牵涉到千家万户的切身利益，关乎社会稳定
- ➡ 高度的责任感、认真负责的态度



政治任务

### 三、做好事



学业水平考试工作的主要环节

# 考试的功能：选拔、检测、指导

## (一) 考什么

1. 台北的圆圆想了解桐城市在中国的位置，她应该查看大比例尺的  
A. 中国地形图      B. 中国政区图      C. 安徽省交通图      D. 安徽省政区图
2. 圆圆利用周末闲暇来桐城旅游，她选择的交通运输方式和中转地最好是  
A. 水路运输与铁路运输，厦门      B. 航空运输与公路运输，合肥  
C. 航空运输与铁路运输，北京      D. 水路运输与公路运输，安庆
- 图 1 为我国华北某地区等高线地形图，读图完成 3~5 题。

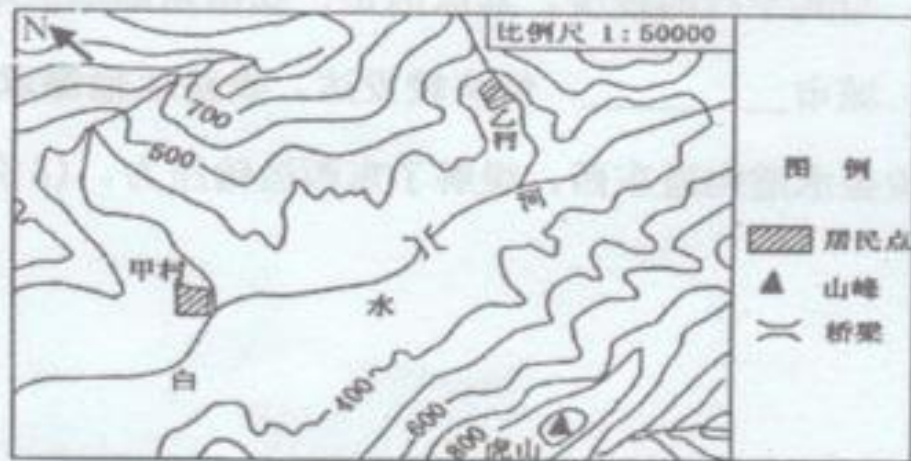



图 1



➡ 国家意志：台湾

➡ 地理学科的价值和地位：

等值线图、极化——涓滴效应、降水的形成过程（2014年安徽教师招聘考试）

➡ 地理核心素养：地理实践力

设计一次学生地理实践活动

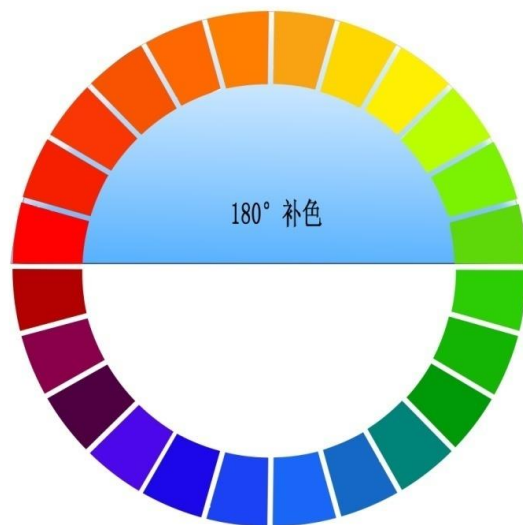
——调查家乡的一条河流（2015年安徽特岗教师招聘考试）



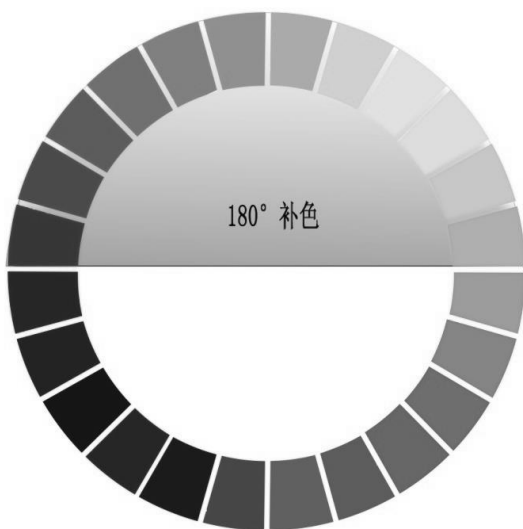
## (二) 试卷彩色印刷

公平性原则：

色盲、色弱  
男性5%—8%，  
女性0.5—1%



红色	绿色	红色和绿色互为补色
黄色	紫色	黄色和紫色互为补色
蓝色	橙色	蓝色和橙色互为补色



黑色	白色	红色和绿色互为补色
白色	黑色	黄色和紫色互为补色
灰色	灰色	蓝色和橙色互为补色



### (三) 引导舆论导向

#### 自媒体时代的舆论风控



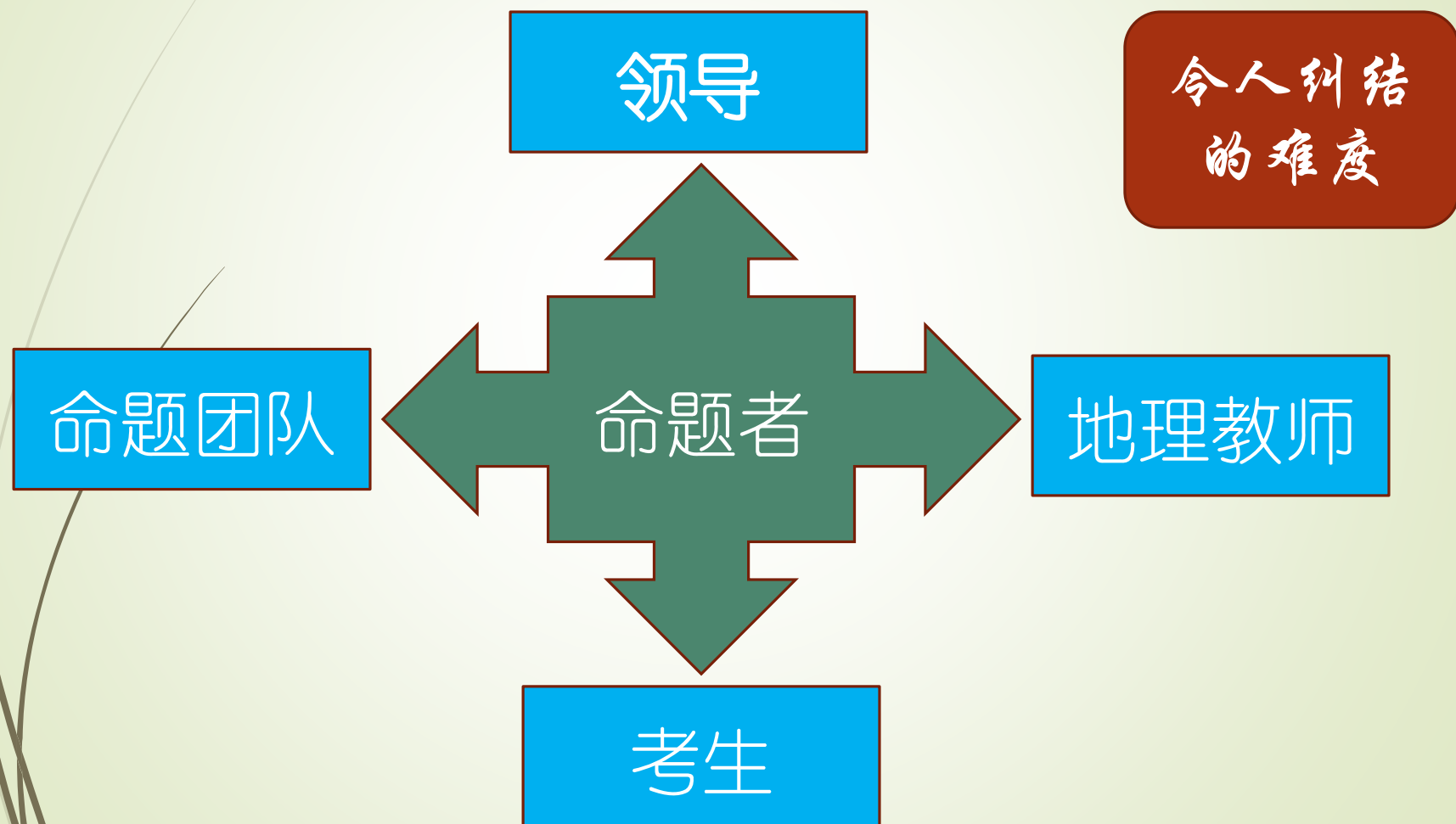
不要有  
硬伤

注意正  
面引导

危机公  
共意识

## 四、做好人

琢磨事，琢磨人



# 安徽省蚌埠市 2016 年八年级毕业学业考试

## 地理试题卷

立德  
树人

注意事项：本试卷共两大题，满分 100 分，地理与生物考试时间共 120 分钟，请您仔细审题，认真作答。并将答案全部写在答题卷上，考生只交答题卷。

一、选择题（本大题共 20 小题，每小题 2 分，共 40 分。每小题只有一个选项符合题意，请将所选的标号填在答题卡的答题框中。）

“六尺巷”位于安徽省桐城市，小巷长约 100 米、宽 2 米，大约是东西走向。“六尺巷”是彰显中华民族和睦谦让美德的见证。读图 1，完成 1-2 题。

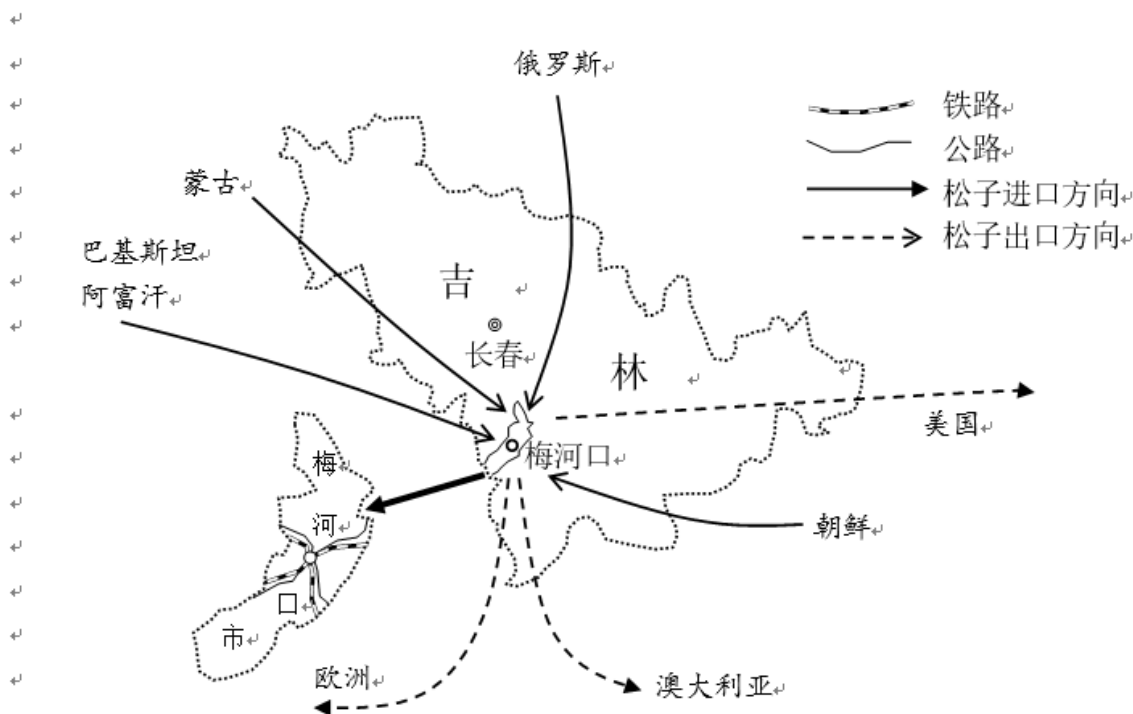
1. 在一幅比例尺为 1:5000 的地图上，六尺巷的长度大约是  
A. 1 厘米  
B. 2 厘米  
C. 10 厘米  
D. 20 厘米
2. 晴天的时候，巷子南面的围墙会在巷子北面的围墙上留下影子。正午时分，图中北面围墙上的影子最高的时候应当是  
A. 春分                      B. 夏至  
C. 秋分                      D. 冬至



图 1

## 36. 阅读材料，完成下列要求。(30分)


松子是一种人们喜爱的坚果。长白山区盛产红松松子，吉林省梅河口市地处长白山西麓，这里采松子、食松子的传统源远流长。砸子、筛选、去皮，松子加工需要大量的人工重复劳动。上世纪七十年代末，梅河口市开始进行松子加工和出口贸易。随着松子果仁产业的不断发展，梅河口市松子加工机械的生产领先世界。近几年，全程电脑控制一体化的松子加工设备实现了松子从原料投喂，到果仁成品包装的全过程。目前梅河口市有175家松子加工厂，年加工松子能力15万吨，占全国产量的80%，占全球松子果仁加工50%以上。



梅河口位置、交通及松子进出口线路图

- (1) 说明梅河口市成为世界松子果仁加工贸易中心的原因。(10分)
- (2) 说说和长春市相比，梅河口市发展松子加工机械产业的有利条件。(6分)
- (3) 分析大量采集野生松果带来的不利影响。(6分)
- (4) 为了松子果仁加工业的可持续发展，请你为梅河口市提出好的建议。(8分)

平和



命题路上，我们要不断学习！

谢谢大家！

