



统考命题对课堂教学导向功能的实践探索

——以初中地理期末试题命制为例

遵义市红花岗区教师培训教研中心：梅永华

2018年8月7日

一、源起：我们调研发现的问题

- 教学上照本宣科
- 方法上讲解陶醉
- 复习上背三套题
- 考试上三套组合
- 评价上统考分数
-

二、考试的功能

- 诊断与反馈功能
- 引导与导向功能
- 激励与强化功能
- 评定与选拔功能

回顾初中地理近年来的试卷变化（2012年7月以前）

红花岗区 2010——2011 学年度第二学期期末考试试卷

七年级地理

题号	一	二	三	四	总分
得分					

得分	评卷人	一、看谁选得又准又快（下列各题只有一个选项是符合题意的，请将答案的代号填在相应的括号内。不选，多选，错选均不得分。答对 1 题得 2 分，共 36 分）									
		题号	1	2	3	4	5	6	7	8	9
		答案									
		题号	10	11	12	13	14	15	16	17	18
		答案									

1、亚洲就经纬度位置而言，位于地球的

- A、东半球 南半球 B、东半球 北半球
C、西半球 北半球 D、西半球 南半球

2、亚洲的河流受地形、地势的影响显著，其主要特征是

- A、自北向南流入印度洋 B、自南向北流入北冰洋
C、自西向东流入太平洋 D、呈放射状向四周流入海洋

3、世界上国家最多的大洲是

- A、非洲 B、亚洲
C、欧洲 D、大洋洲

4、南北美洲分界线是

- A、苏伊士运河 B、巴拿马运河
C、土耳其海峡 D、马六甲海峡

5、玉米的原产地是

- A、中国 B、美国
C、墨西哥 D、巴西

6、下列地区，地形具有山河相间、纵列分布特点的是

- A、中南半岛 B、日本群岛
C、印度半岛 D、马来群岛

7、给南亚带来丰富降水的季风是

- A、西北季风 B、西南季风
C、东南季风 D、东北季风

8、世界第二软件大国是

- A、中国 B、美国
C、印度 D、俄罗斯

9、世界最大的石油产地在

C、波斯湾及其

10、被基督教、伊斯

A、麦加

C、开罗

11、南极洲的代表动

A、磷虾

C、海豹

12、南极地区是科学

A、长城站

C、和平站

13、日本工业主要集

A、受日本暖流影

C、受火山、地震影

14、埃及产量和出口

A、石油

C、羊毛

15、俄罗斯位于北冰

A、库尔斯克

C、摩尔曼斯克

16、目前，世界最大

A、圣弗朗西斯科

C、洛杉矶

17、关于美国的叙述

A、从经济发展水

B、美国的农业地

C、美国的第一大

D、美国主要以温

18、被称为“骑在羊

A、中国

得分	评卷人

二、连一连，看谁

乘船游览峡湾，

在音乐之都维也纳

游水城威尼斯，

去阿尔卑斯山滑

登埃菲尔铁塔，

去无产阶级革命

得分	评卷人

三、请你动一动脑，完成下列综合题（共 43 分）

1、读“非洲地形、河流图”，完成下列各题（12 分）

（1）写出图中字母代表地理事物的名称：

A、_____ 山脉

B、_____ 湾

C、_____ 岛

D、_____ 海

E、_____ 河

（2）K、M 两高原中，有“非洲屋脊”之

（填字母），名称是：_____

（3）E、F 两河中，_____ 河的水量较小、

大，_____ 河水量较大，较稳定。（填字母或名称）。

（4）从图中可以看出，赤道穿过非洲中部的_____ 盆地；赤道附近的_____ 山是非洲的最高峰，

海拔为_____ 米，有罕见的“赤道雪峰”景观。

2、读西亚地区空白图，回答问题：（13 分）

（1）图中数字所代表的国家或河流分别是：

1、_____ 2、_____

3、_____ 4、_____

5、_____ 河

（2）图中 a、b、c 所代表的大洲是：

a、_____ b、_____

c、_____

（3）图中下列字母代表的海洋或湖泊分别是：

A、_____ B、_____ C、_____ D、_____ E、_____

3、读日本地图回答问题：（18 分）

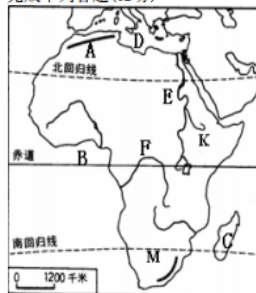
（1）填出图中字母所代表的地理事物的名称

A、_____ 海洋 B、_____ 海洋 C、_____ 岛屿

D、_____ 岛屿 E、_____ 首都

（2）图中 F 是_____ 山，它是一座著名的活火山。日本多火山地震是因为它位于_____

板块和_____ 板块的交界处。



称的是 _____

高原。

水位季节变化

（3）根据图中所示、结合所学知识，回答下列问题：（各

2 分）

日本经济状况：_____

日本矿产资源状况：_____

日本工业主要分布于：_____

（4）日本在发展经济的过程中，依靠先进的_____，

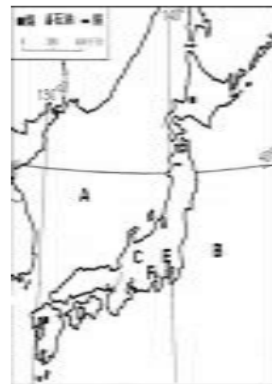
和高素质的_____ 资源，利用其便利的海洋运输，对

进口的_____ 进行加工，制成高品质的工业产品，

再销往世界各地，形成了以_____ 为主的经

济。

得分	评卷人



四、认真看一看下列材料，分析回答下列问题：（共 9 分）

2009 年 1 月 27 日，我国首个南极内陆考察站——昆仑站（H 处）顺利建成，昆仑站是我国第三个南极考察站，在南极内陆冰盖的最高点冰穹 A 西南方向约 7.3 千米，其地理坐标约为（80° S，77° E），距离中山站约 1 500 千米，从科学考察角度看，南极有四个必争点：极点、冰点、磁点和最高点，前三点已分别由美国、前苏联、法国占据，中国则占据了第四个点——最高点。

（1）三个科学考察站中，纬度最高的是_____。

（2）写出 H 点的大致地理坐标 _____、_____。

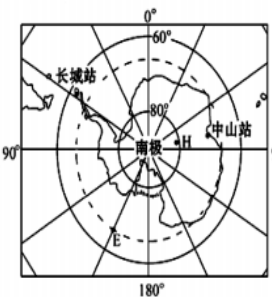
（3）随着对南极地区的考察，我国先后建立了三个考察站。其中位于西半球的考察站是_____（写名称），有极昼极夜现象的考察站是_____、_____（写名称）。

（4）1989 年 12 月 12 日，国际考察队到达南极点时，中国队员在南极点上升起了一面五星红旗，红旗大致朝_____方向飘扬。

（5）科学考察发现，南极大陆下竟然埋藏丰富煤炭，对这一事实成因解释合理的是（2 分）

（ ）

A、气候变暖 B、大陆漂移 C、人类活动 D、植被迁移



回顾初中地理近年来的试卷变化

(2013年1月—2015年1月)

红花岗区 2013—2014 学年度第一学期期末考试

八年级地理试卷

题号	一	二	三	总分
得分				

充分调动你的手、口、眼、脑,勇敢的去发现问题、分析问题、解决问题。相信自己,我能行!

得分	评卷人

一、单项选择题,把答案填入下列表格中。(每小题 2 分,共 50 分)

题号	1	2	3	4	5	6	7	8	9	10	11	12	13
答案													
题号	14	15	16	17	18	19	20	21	22	23	24	25	
答案													

读中国的疆域图 1,回答 1~3 题:

- 从纬度位置看,中国主要位于:
A. 北寒带 B. 北温带
C. 热带 D. 南温带
- 从海陆位置看,中国位于:
A. 亚欧大陆中部 B. 亚欧大陆东南部,印度洋北部
C. 亚欧大陆西部 D. 亚欧大陆东部,太平洋西岸
- 中国海岸线长达 1.8 万多千米,濒临渤海、黄海、东海和南海,其中长江注入的海域是:
A. 渤海 B. 黄海
C. 东海 D. 南海

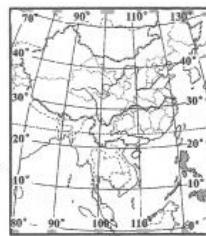


图 1

图 2 为我国六次人口普查的人口数据,读图回答 4~6 题。

- 图 2 反映出我国人口特点是:
A. 城镇居民比重升高 B. 人口老龄化加重
C. 居民受教育水平提高 D. 我国人口增长速度较快
- 我国陆地面积约 960 万平方千米。结合图 2, 可以计算出 2010 年我国平均人口密度约为:
A. 101 人/平方千米 B. 130 人/平方千米
C. 139 人/平方千米 D. 212 人/平方千米
- 我国人口总数超过 13 亿,主要集中在分布在东部地区的根本原因:
A. 交通发达 B. 自然条件较好 C. 经济发达 D. 文化发达

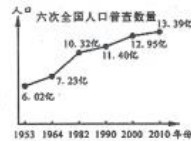


图 2

担负中国首次地外天体软着陆和巡视探测任务的嫦娥三号于 2013 年 12 月 2 日 1 时 30 分在文昌卫星发射中心发射升空,展开奔月之旅。读西南地区铁路网图 6,完成 18~20 题。

- 嫦娥三号成功发射,她属于:
A. 能源工业 B. 机械工业 C. 钢铁工业 D. 高技术产业
- 遵义的你,想到四川文昌卫星发射中心现场观看卫星发射,选择最合理的铁路干线是:
A. 黔渝线—川渝线—成昆线 B. 黔渝线—贵昆线—成昆线
C. 黔渝线—川渝线—贵昆线 D. 黔渝线—贵昆线—川渝线
- 铁路运输的特点是:
A. 速度较快,运价低 B. 运量大,速度慢
C. 机动灵活,适应性强 D. 速度快,运价高



图 6

8 月 18 日,2013 中国·贵阳避暑季之清镇市第九届红枫葡萄酒文化节将在美丽的红枫湖畔拉开大幕。读材料完成 21~22 题。

- 我国水果物产丰富,质量优越,在全国葡萄酒产区中,质量最好的产区是:
A. 贵州省 B. 山东省 C. 新疆维吾尔自治区 D. 海南省
 - 贵州省生产的葡萄质量优越,得益于贵州:
A. 光照强 B. 水源充足 C. 土壤肥沃 D. 昼夜温差较大
- 中国海军航母辽宁舰及 4 艘伴随舰艇从青岛小口子军港出发,于 2013 年 11 月 28 日晨通过台湾海峡进入南海,29 日首次停泊三亚某军港,对于保护“蓝色国土”有重要意义。读材料回答 23~25 题。
- 保护“蓝色国土”的说法,错误的是:
A. 对海洋资源实行综合管理 B. 提高海洋环境保护的执法力度
C. 用高科技促进海洋资源的可持续利用 D. 海洋资源取之不尽、用之不竭,尽量开采
 - 我国发展海洋产业的有利条件是:
A. 我国近海污染小,海水清澈 B. 有寒暖流交汇
C. 大陆架宽而深 D. 我国沿海海岸都适宜建立海盐盐场
 - 近几年,我国在沿海海域实行“伏季休渔”制度,其主要原因是:
A. 实现渔业可持续发展 B. 恶劣的海洋天气
C. 修补渔业船只 D. 海洋军事演习的需要

得分	评卷人

二、综合读图题(44 分)

26. 阅读有关图文资料,完成下列问题。(16 分,每空 2 分)

“远方的家”专题片《边疆行》,从广西按顺时针方向途经 9 个省区至辽宁沿途拍摄,反映我国边疆的风土人情(如图 7)。

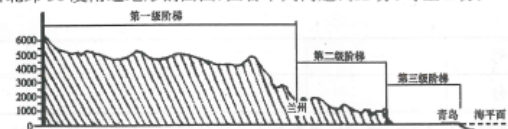
- ①省行政中心是_____,②省区简称是_____。
- ③是_____山脉,④是_____高原。
- 专题片有四集的标题分别是:
a. 沙漠边的绿洲 b. 寻幽访古走腾冲
c. 最北之旅漠河 d. 塞上明珠、草原牧歌
按拍摄行程先后顺序排列正确的是()
A. b-a-d-c B. a-b-c-d
C. c-b-d-a D. d-c-b-a



图 7

- 东北平原位于我国地势第_____级阶梯,沃野千里,黑土广布,是重要的商品粮基地,主要粮食作物是_____。与东北平原相比,云贵地区农业生产不发达,简要分析影响云贵地区农业生产不利的自然条件_____。(至少 1 个方面)。

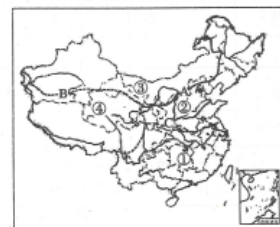
27. 读我国沿北纬 36 度附近地形剖面图,回答下列问题:(12 分,每空 2 分)



- 我国地势特点:_____,呈_____分布。
- 第一级阶梯地形以_____为主;平均海拔_____米以上。
- 这种地势对河流流向的影响是_____,也使许多大河在阶梯交界处,落差大,水流急,蕴藏着丰富的_____资源。

28. 读下图,根据所学过的知识回答问题。(16 分,每空 2 分)

- 写出下列省区的名称
①_____,
②_____,
③_____,
④_____。
- 界线 C 大致与 1 月_____等温线相吻合,大致与_____等降水量线最接近。
- 界线 B 是我国地势第_____级阶梯与第_____级阶梯的分界线。



得分	评卷人

三、阅读下列材料,完成下列问题(6 分):

贵安新区是西部大开发的五大新区之一,是 2012 国发 2 号文件中提出实现贵州后发赶超和跨越发展的主战场。贵安新区位于贵州省贵阳市和安顺市之间,贵安新区涉及贵阳市观山湖区、花溪区、清镇市的 8 个乡镇和安顺市西秀区、平坝县 14 个乡镇,共计 22 个乡镇,约 2000 平方公里的空间范围,规划约 400 万人人口规模和 500 平方公里建设用地规模。规划定位为中国内陆开放型经济示范区,形成以航空航天为代表的特色装备制造基地、重要的资源深加工基地、区域性商贸物流中心和科技创新中心。

- 请你谈谈贵安新区的建设目标?(4 分)
- 把贵安新区规划约 400 万人人口规模和 500 平方公里建设用地规模,在开发过程中可能会带来哪些环境问题?(2 分)

回顾初中地理近年来的试卷变化 (2016年7月以后)

遵义市红花岗区 2017—2018 学年度第一学期期末考试

七年级地理试题卷

(满分:100 分;考试时间:120 分钟)

注意事项:(1)答卷前,考生务必用直径 0.5 毫米黑色墨水签字笔将自己的学校、班级、姓名、考号等填写清楚,并贴好条形码(非网上阅卷学校在该处填写准考证号或考号)。(2)请将答案填写在答题卡相应位置上,否则作答无效,考试结束,只交答题卡。

一、单项选择题(每小题 2 分,共 60 分)

图 1 示意地球经纬网,据此完成 1—3 题

1. 图中 A 点的经纬度正确的是

- A. 20°E、66.5°N
- B. 20°W、23.5°S
- C. 20°E、66.5°S
- D. 20°W、66.5°N

2. 图中 B 点、C 点所在东西半球组合正确的是

- A. 东半球、西半球
- B. 两个都在东半球
- C. 西半球、东半球
- D. 两个都在西半球

3. A 点位于北极点的

- A. 东南
- B. 西南
- C. 正南
- D. 西北

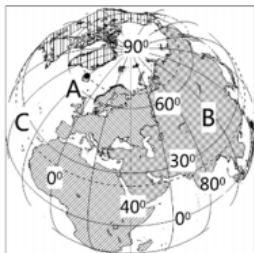


图 1

定向越野作为一种新兴的运动项目,它是利用地图和指北针导航的运动。现需要你绘制某地区长和宽在 5.4 公里范围的等值线图,供某学校夏令营的学生越野活动时使用。据此完成 4—6 题

4. 绘制地图的图纸为长、宽 20 厘米,合适的比例尺是

- A. 1:2500
- B. 1:3000
- C. 1:25000
- D. 1:30000

5. 推测该等值线图是

- A. 交通图
- B. 地形图
- C. 气温图
- D. 降水图

6. 图 2 中乙地在甲地的

- A. 东北方
- B. 西北方
- C. 西南方
- D. 东南方



图 2

图 3 示意降水形成,据此完成 7—9 题
图示显示的降水类型是

- A. 地形雨
- B. 对流雨
- C. 锋面雨
- D. 气旋雨

8. 图中山顶到山麓的相对高度为 3500 米,夏季时山麓气温为 20℃,山顶的气温是

- A. 1℃
- B. 4℃
- C. 0℃
- D. -1℃

9. 山顶的景观为

- A. 森林
- B. 草原
- C. 沙漠
- D. 冰川

10. 下列物质不属于“城市空气质量日报”监测计算的是

- A. 二氧化硫
- B. 氮氧化物
- C. 二氧化碳
- D. 可吸入颗粒

11. 2017 年 11 月 18 日,受强寒潮的影响,我国山东省青岛市出现西北风 7 级。下列符号正确的是

- A. 森林
- B. 寒冷干燥
- C. 四季如春
- D. 滂沱大雨

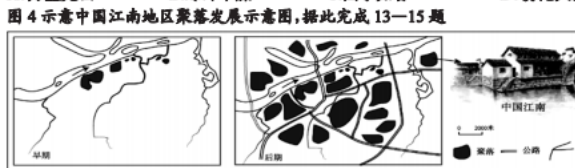


图 4

13. 图中聚落早期形成的因素是

- A. 资源
- B. 人口
- C. 气候
- D. 河流

14. 图中后期景观有明显变化,描述错误的是

- A. 人口增多
- B. 公路增多
- C. 民居增多
- D. 河流减少

15. 图中民居能体现该地的气候特点,下列描述正确的是

- A. 冬季温和多雨
- B. 夏季高温多雨
- C. 全年寒冷干燥
- D. 全年寒冷湿润

16. 每年国庆期间(10 月 1 日),遵义的昼夜长短情况

- A. 昼短夜长
- B. 昼长夜短
- C. 昼夜等长
- D. 极昼现象

17. 在遵义,居民们都习惯冬至吃羊肉滋补,这天太阳光直射点在

- A. 赤道
- B. 北回归线
- C. 南回归线
- D. 南极圈

18. 在中国,夏至是进入炎热夏季的标志,但此时南半球一些地方的人却开始穿上厚厚的羽绒服。原因是南半球进入了

- A. 春季
- B. 夏季
- C. 秋季
- D. 冬季

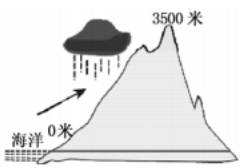


图 3

图 5 示意板块分布,据此完成 19—21 题

19. 图中伊朗、伊拉克发生地震源于两板块的挤压,这

- A. 非洲板块、亚欧板块
- B. 印度洋板块、亚欧板块
- C. 印度洋板块、非洲板块
- D. 太平洋板块、亚欧板块

20. 图中英国属于

- A. 欧洲
- B. 亚洲
- C. 非洲
- D. 大洋洲

21. 英国地震少的原因

- A. 板块碰撞作用小
- B. 板块内部稳定
- C. 板块是张裂作用
- D. 处于大陆西岸

人口问题,是由于人口在数量、结构、分布等方面与环境之间的矛盾冲突。据此完成 22—24 题

22. 世界上人口最多的国家是

- A. 印度
- B. 俄罗斯
- C. 美国
- D. 中国

23. 欧洲部分国家出现劳动力短缺问题,主要原因是

- A. 人口增长快
- B. 移民变少
- C. 经济衰退
- D. 出生率低

24. 目前,地球总人口已超过 70 亿,人口过多带来的问题

- ①粮食不足
- ②交通拥挤
- ③住房紧张
- ④环境污染

图 6 示意欧洲区域,据此完成 25—27 题。

25. 世界三色人种划分的主要依据

- A. 头型
- B. 四肢
- C. 脸型
- D. 肤色

26. 图示大洲居民主要宗教信仰是

- A. 基督教
- B. 伊斯兰教
- C. 佛教
- D. 印度教

27. 该区域居民肤色较浅的原因是

- A. 居住地纬度较高
- B. 饮食习惯导致
- C. 居住地形较平
- D. 劳动方式导致

28. 发达国家与发展中国家的划分依据是

- A. 自然条件差异
- B. 政治地图变化
- C. 经济水平
- D. 人口数量

29. “一带一路”战略是中国进一步深化改革的举措

- A. 有利于西部地区能源的开发与出口
- B. 有利于中国企业走出去,不利于外资的进入
- C. 有利于中国对外贸易的发展
- D. 有利于提高关税,保护民族企业

30. APEC 国际组织名称是指

- A. 欧盟
- B. 北非
- C. 东盟
- D. 亚太

二、综合题:(3 个大题,共 40 分)

31. (12 分)图 7 示意大洋洲气候类型分布,结合图中信息完成下列要求。

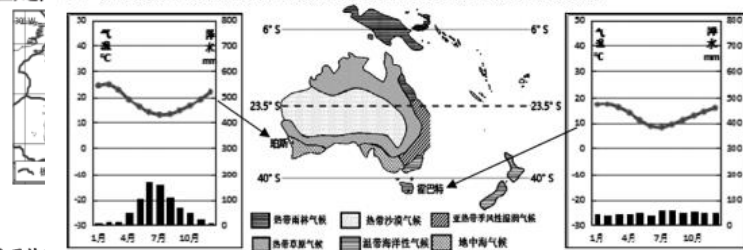


图 7

(1) 判断珀斯、霍巴特两城市的气候类型,并分别描述其气候特征。(6 分)

(2) 描述大洋洲热带沙漠气候、亚热带季风性湿润气候的分布特征。(6 分)

32. (17 分)图 8 示意等高线地形,结合图上信息完成下列题目。

(1) 判断图中①②山体部位名称,请说明判断理由。(6 分)

(2) 估算图中 A 点和 B 点的海拔高度,并计算 AB 之间的相对高度。(6 分)

(3) 海龙屯三面深谷环绕,易守难攻。结合等高线图,判断是哪三面,说说你的判断理由。(5 分)

33. (11 分)图 9 示意世界人口分布,结合图中信息完成下列题目。

(1) 描述人口密度在 100 人以上的地区。(5 分)

(2) 试分析①②③④四个地区人口密度小的原因。(可任选三个地区作答)(6 分)



图 8

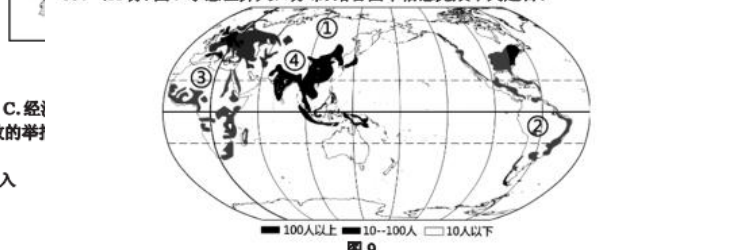


图 9

二、初中地理考试导向功能实践探索

1. 试卷结构的变化

2. 试卷题型的变化



二、初中地理考试导向功能实践探索

3. 试题呈现的方式变化

2012年8月以前

2012年12月至
2014年1月之间

2015年1
月至今

选择：直接设问题

连线：因果连线

填图：看图填空

材料分析：材料

选择：情境到情境+图形1拖3-4

读图：多样性

综合题：填空

材料分析：热点+生活(少)+简答题(多)

二、初中地理考试导向功能实践探索

4. 试题能力的要求变化

C、西半球 北半球

D、西半球 南半球

2. 亚洲的河流受地形、地势的影响显著,其主要特征是

A、自北向南流入印度洋

B、自南向北流入北冰洋

C、自西向东流入太平洋

D、呈放射状向四周流入海洋

图1为亚洲地形图,据图完成1~4题。

- 符合亚洲地理位置描述的是
A. 直接濒临四大洋
B. 跨南北半球的大洲
C. 西部与非洲为邻
D. 西南部与欧洲相连
- 符合亚洲地形特征描述的是
A. 地形以高原和平原为主
B. 是平均海拔最高的大洲
C. 地面起伏大,相对高度小
D. 地势中间高,四周低
- 对亚洲气候分布叙述正确的是
A. 亚洲包含了高、中、低纬的全部气候类型
B. 亚洲面积最大的气候类型是温带大陆性气候
C. 亚洲海陆热力性质差异显著,以季风气候为主
D. 亚洲各地气温差别大的原因是南北所跨纬度广
- 对亚洲河流和湖泊叙述正确的是
A. 亚洲的内流河流域面积广大
B. 湄公河是世界流经国家最多的河流
C. 里海是世界上最大的淡水湖
D. 亚洲河流、湖泊众多与面积大小无关

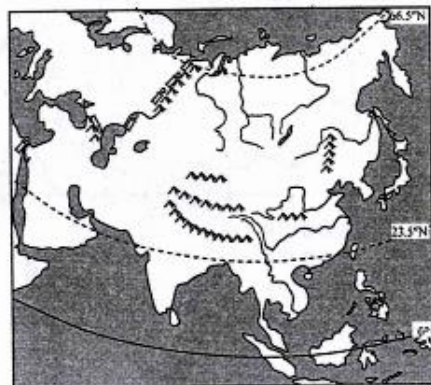


图1

D、大洋洲

早期

1. 读右边东西半球图,回答问题。

(1) 大洲:

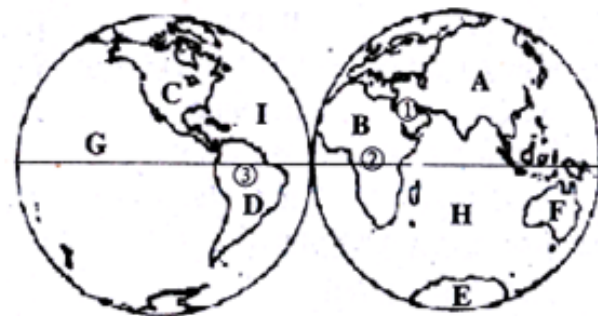
A、_____ B、_____

C、_____ D、_____

(2) 大洋:

G、_____ I、_____

H、_____



东西半球图

过渡期

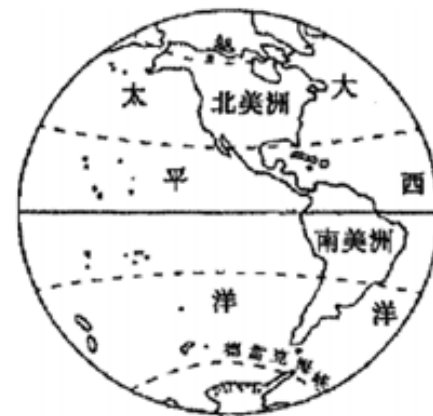
1. 读右边西半球海陆分布图,回答问题。

(1) 描述南美洲的地理位置:

东临_____洋,西临_____洋,

北与_____洲相连,南隔_____海

峡与_____洲相望。



现在

1. 读右边西半球海陆分布图,回答问题。


(1) 描述南美洲地理位置的特点。

三、命题者的研究方向

1.研究教育测量理论，使命题科学规范

研究信度、效度、难度、区分度的影响因子：

命题时通盘考虑，试卷结构、题量、题型以及不同题型的配比、不同难度试题的比例等，在保持相对稳定中调整，考试具有一定的效度和区分度。



三、命题者的研究方向

2.研究课程改革理论，让育人落地生根

研究试题的命制内容与命制形式才能符合课程改革和教育转型的评价理念，更真实地折射出课堂教与学实际，反映学生学生的学科核心素养的积淀基本情况，最大限度的发挥试题的导向、反馈、调整的功能，这是广大教育工作者关注和研究的问题。

基础教育课程是国家意志和核心价值观的直接体现，承载着教育思想、教育目标和教育内容，在人才培养中发挥着核心作用，命题要以此为指导思想，才能落实课程改革，才能推进地理学科能力教育的发展。

三、命题者的研究方向

3.研究大型考试试题，寻命题导向功能

试卷，研究试题命制的特点与考查意图，有助于了解考试的发展趋势，促进学科教学尤其是复习教学的改革，促进自己的教学方式改变。有利于促进高效教学，处理好考试与教学的关系。

课堂是教学的主阵地，我们应学习大型考试的命题特点，发挥好命题的导向作用，使教师关注课堂，关注学生的学习过程，引领教师在课堂中落实学科的教学目标，使考试作课堂教学的正反馈，成为教学过程的必要环节。



三、命题者的研究方向

4.研究考试能力要求，引导学生持续学习

命题考试的主要目的是为了全面了解学生的学习历程，激励学生的学习，帮助学生认识自我，建立信心，归纳学习方法，掌握学习规律，形成可持续发展和终身学习的能力，有利于学生今后的学习和生活，促进每一个学生的可持续发展。

坚持让正常参加学习的学生取得理想成绩，夯实了学科基础，实现减负的要求，还给孩子丰富多彩的学业生涯。

三、命题者的研究方向

5.研究考试原创试题，想落实减负提质

学生过重的课业负担，常被归咎为是考试造成的。这样归因尽管存在着片面认识，但它提示命题者，以学生能力发展为导向，坚持强化应用意识、探究意识，防止死记硬背、机械重复，做好原创试题的命制，引导教师更关注学生的学习过程与方法，自主探究学科学习规律，具备终身学习的能力，并让教学者在题海找不到原题，让学生自己也认识到做更多的题不如掌握知识的内在规律和原理，因此命题也要肩负着减轻学生过重课业负担的使命。只有这样才有利于发挥考试的积极效能，引导学生对学习充满积极的兴趣和情感，切实减轻学生过重的课业负担，使学生身心得到健康发展。

全市质量监测三大指标位居遵义前列

遵义市2017-2018学年第二学期七年级地理

区县	总分(100分)	排名
全市	46.68	
务川县	37.43	16
桐梓县	40.95	15
正安县	41.57	14
绥阳县	42.34	13
习水县	43.69	12
凤冈县	45.12	11
湄潭县	46.19	10
道真县	48.3	9
南部新区	48.36	8
新蒲新区	48.39	7
播州区	49.0	6
仁怀市	49.06	5
余庆县	49.91	4
赤水市	50.35	3
汇川区	54.56	2
红花岗区	56.18	1

2018届学生学业水平考试地理

2.1.2 总体得分情况

表 2.3 2017 年地理得分情况比较

区县	排名	平均分	标准差	得分率	离均差	超均率	比均率
红花岗区	1	32.70	8.80	65.39%	3.45	11.79%	111.79%
播州区	6	30.17	8.16	60.34%	0.92	3.14%	103.14%
桐梓县	12	27.96	8.21	55.93%	-1.28	-4.39%	95.61%
绥阳县	14	27.46	8.55	54.93%	-1.78	-6.10%	93.90%
正安县	13	27.61	8.57	55.21%	-1.64	-5.62%	94.38%
道真县	4	31.10	8.52	62.21%	1.86	6.35%	106.35%
湄潭县	7	29.35	8.19	58.70%	0.10	0.34%	100.34%
凤冈县	8	28.71	8.73	57.42%	-0.54	-1.85%	98.15%
务川县	15	27.17	8.91	54.35%	-2.08	-7.09%	92.91%
余庆县	2	31.75	8.05	63.49%	2.50	8.54%	108.54%
仁怀市	10	28.10	8.23	56.19%	-1.15	-3.94%	96.06%
习水县	11	28.09	8.81	56.18%	-1.16	-3.95%	96.05%
赤水市	5	30.86	8.47	61.72%	1.61	5.51%	105.51%
汇川区	3	31.29	8.46	62.59%	2.05	7.00%	107.00%
新蒲新区	9	28.26	8.77	56.51%	-0.99	-3.39%	96.61%
全市	--	29.25	8.66	58.50%	--	--	--

实践的成果得到市级认可并全面推广

遵义市 2016—2017 学年度第二学期期末统一考试

七年级地理、生物试题卷

(地理、生物各 100 分。考试时间:120 分)

注意事项:

- 1. 答题前,务必将自己的姓名、考号等信息填写在答题卡规定的位置上。
- 2. 答选择题时,必须使用 2B 铅笔将答题卡上对应题目的答案标号涂黑,如需改动,用橡皮擦干净后,再选涂其它答案标号。
- 3. 答非选择题时,必须使用黑色墨水笔或黑色签字笔,将答案书写在答题卡规定的位置上。
- 4. 所有题目必须在答题卡上作答,在试题卷上答题无效。
- 5. 考试结束后,只交答题卡。

一、地理单项选择题(每小题 2 分,共 60 分)

- 1. 亚洲是
 - A. 平均海拔最高的大洲
 - B. 世界上人口最多的大洲
 - C. 跨经度范围最广的大洲
 - D. 人口自然增长率最高的大洲
- 2. 亚洲没有的气候类型是
 - A. 热带雨林气候
 - B. 热带沙漠气候
 - C. 温带海洋性气候
 - D. 温带大陆性气候
- 3. 世界上海外华人最集中的地区为
 - A. 南亚
 - B. 东南亚
 - C. 欧洲西部
 - D. 西亚



- 4. 湄公河在中国境内的名称是
 - A. 珠江
 - B. 金沙江
 - C. 乌江
 - D. 澜沧江
- 5. 景洪水电站位于
 - A. 湄公河流域
 - B. 湄南河流域
 - C. 萨尔温江流域
 - D. 伊洛瓦底江流域
- 6. 在灌溉水源较好的冲积平原地区,种植的粮食作物是
 - A. 小麦
 - B. 玉米
 - C. 水稻
 - D. 可可
- 7. 南亚热带季风气候显著的特征是一年分为
 - A. 雨季、凉季、热季
 - B. 春季、夏季、秋季
 - C. 旱季、冬季、热季
 - D. 冬季、夏季、秋季
- 8. 日本多火山地震,主要原因是地处亚欧板块
 - A. 与美洲板块的交界地带
 - B. 与印度洋板块的交界地带
 - C. 与非洲板块的交界地带
 - D. 与太平洋板块的交界地带
- 9. 日本工业高度发达和工业产品主要出口国外的原因分别是
 - ①科技发达
 - ②劳动力丰富
 - ③国内市场狭小
 - ④矿产资源丰富

A. ①② B. ①③ C. ②④ D. ③④

俄罗斯拥有全球最大钻石矿—“米尔矿”,钻石虽多,但这里生活必需品(如水果、蔬菜)缺乏。图 5 示意俄罗斯主要矿产资源分布图,读图完成 22~24 题。

- 22. “米尔矿”生活必需品缺乏的主要原因是
 - A. 纬度高,严寒
 - B. 海拔高,缺氧
 - C. 沙漠区,干旱
 - D. 雨林区,湿热



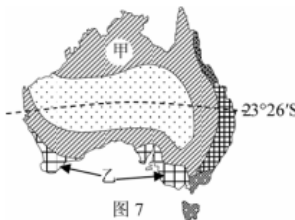
- 23. 据图可知俄罗斯发展工业最有利的条件之一是
 - A. 环境优美宜人
 - B. 矿产资源丰富
 - C. 科技力量雄厚
 - D. 依赖国际市场
- 24. 俄罗斯对外联系的重要不冻港是
 - A. 圣彼得堡
 - B. 海参崴
 - C. 摩尔曼斯克
 - D. 苏维埃港

图 6 示意美国本土略图,读图完成 25~27 题。



- 25. 美国居民饮食中,不可能来源于美国本土的是
 - A. 玉米
 - B. 小麦
 - C. 牛奶
 - D. 青稞
- 26. 美国的新兴工业地带主要集中在
 - A. 大西洋沿岸
 - B. 太平洋沿岸
 - C. 五大湖沿岸
 - D. 墨西哥湾沿岸
- 27. 美国的首都是
 - A. 华盛顿
 - B. 纽约
 - C. 休斯敦
 - D. 芝加哥
- 28. 在素有“北美地中海”之称的淡水湖群中,面积最大的是
 - A. 安大略湖
 - B. 休伦湖
 - C. 伊利安湖
 - D. 苏必利尔湖

图 7 示意澳大利亚气候类型分布图,读图完成 29~30 题。



- 29. 甲气候类型为
 - A. 热带雨林气候
 - B. 热带季风气候
 - C. 热带草原气候
 - D. 热带沙漠气候
- 30. 乙为地中海气候,该区域多雨的季节为
 - A. 春季
 - B. 夏季
 - C. 秋季
 - D. 冬季

二、地理综合题(31~32 题,共 40 分)

- 31. (20 分)亚洲和欧洲的大陆部分连为一体,称为亚欧大陆,也称为欧亚大陆,图 8 示意亚欧大陆,据此完成下列要求。



- (1) 2000 多年前,一条以中国东部的徐闻港、合浦港等港口为起点,经过中南半岛和南海诸国,绕过_____海峡,穿过_____洋,进入_____海抵达东非和_____洲的海上丝绸之路成就了世界性的贸易网络。(8 分)
- (2) 描述欧洲的海陆位置。(8 分)
- (3) 判断亚洲的地势特征,并说明理由。(4 分)

- 32. (20 分)图 9 中甲示意南美洲气候分布、乙示意巴西人口分布,据此完成下列要求。

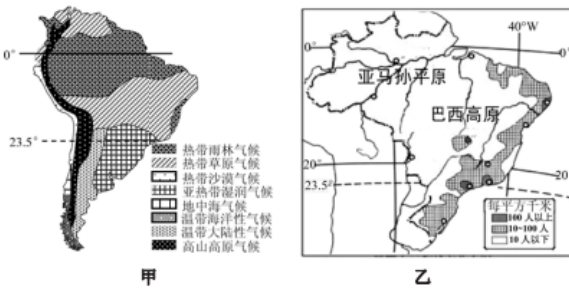


图 9

- (1) 描述巴西的纬度位置。(4 分)
- (2) 归纳巴西人口的分布特点,并分析其成因。(10 分)
- (3) 分析巴西热带雨林过度砍伐带来的环境问题。(6 分)

四、获得的成果

经历了多年的风风雨雨，以取得较好的收获：

- 1.全市质量监测三大指标位居遵义前列
- 2.老教师学习新技术运用新术比例上升
- 3.年轻教师研究课标教材成长迅速加快
- 4.学生、教师、学校、社会在实践中认可
- 5.实践的成果得到市级认可并全面推广

五、命题者遇到的困惑

改变中我们也遇到了很多问题 ? ? ? ?

- 1.如何整体提高平均分、优秀率的问题
- 2.考试评判都局限性与学生能力的问题
- 3.生活情境试题素材收集与取舍的问题
- 4.偏题、难题、怪题，确保科学性的问题
- 5.命制内容与形式落实课程改革的问题

在反思中寻找，
在寻找中研究，
在研究中找答案

.....

命题是一个艰辛的过程，命题是一个思考、学习的过程，命题更是一个研究的过程。应该说，我们的命题研究工作仍在路上！

